





Farma – matematyczne łamigłówki mądrej główki

Gospodarz na swej farmie, posiada różne zwierzątka. Postanowił je policzyć. Czy pomożecie farmerowi?




Jeśli tak, policzcie wszystkie zwierzątka i pokolorujcie ten prostokąt w ramce, którego cyfra odpowiada liczbie wskazanych po lewej stronie zwierzątek. Do dzieła!





Policz zwierzątka na farmie i zakoloruj okienko z odpowiednią liczbą zwierząt.




	5	7	9	12
	5	7	9	12
	5	7	9	12

Policz zwierzątka na farmie i zakoloruj okienko z odpowiednią liczbą zwierząt.

	5	6	10	9
	5	6	10	9
	5	6	10	9



Policz zwierzątka na farmie i zakoloruj okienko z odpowiednią liczbą zwierząt.

	4	8	10	12
	4	8	10	12
	4	8	10	12

Policz zwierzątka na farmie i zakoloruj okienko z odpowiednią liczbą zwierząt.

	5	8	10	12
	5	8	10	12
	5	8	10	12

I jak? Udało się? Zwierzątka policzone? Z pewnością tak. A zatem, farmer zaprasza Was na smakowity piknik 😊 Dobrej zabawy!