





Pszczółki – matematyczne łamigłówki mądrej główki

Kochane Dzieci. Pszczółki wyszły na spacer, niestety podczas wyprawy napotkał je lekki deszczyk. Policzcie ile kropelek deszczu spadło na parasolki? Następnie zakreślcie odpowiedni wynik 😊 😊 😊

					
<input type="radio"/> 8	<input type="radio"/> 0	<input type="radio"/> 15	<input checked="" type="radio"/> 0	<input checked="" type="radio"/> 12	<input checked="" type="radio"/> 3
Ile kropelek deszczu widzisz na obrazku? Zaznacz prawidłową odpowiedź.					

					
<input type="radio"/> 18	<input type="radio"/> 6	<input type="radio"/> 16	<input checked="" type="radio"/> 17	<input checked="" type="radio"/> 12	<input checked="" type="radio"/> 10
Ile kropelek deszczu widzisz na obrazku? Zaznacz prawidłową odpowiedź.					

	
<p>12 10 5</p>	<p>7 1 3</p>
<p>Ile kropelek deszczu widzisz na obrazku? Zaznacz prawidłową odpowiedź.</p>	

	
<p>4 9 1</p>	<p>9 12 6</p>
<p>Ile kropelek deszczu widzisz na obrazku? Zaznacz prawidłową odpowiedź.</p>	

	
<p>12 10 5</p>	<p>0 9 3</p>
<p>Ile kropelek deszczu widzisz na obrazku? Zaznacz prawidłową odpowiedź.</p>	

	
<p>8 0 15</p>	<p>0 12 3</p>
<p>Ile kropelek deszczu widzisz na obrazku? Zaznacz prawidłową odpowiedź.</p>	

Gratuluję 😊 Znakomicie wykonaliście zadanie. W nagrodę, pszczołki dostarczą Wam słoiczek smakowitego miodu 😊 😊 😊